

nombre

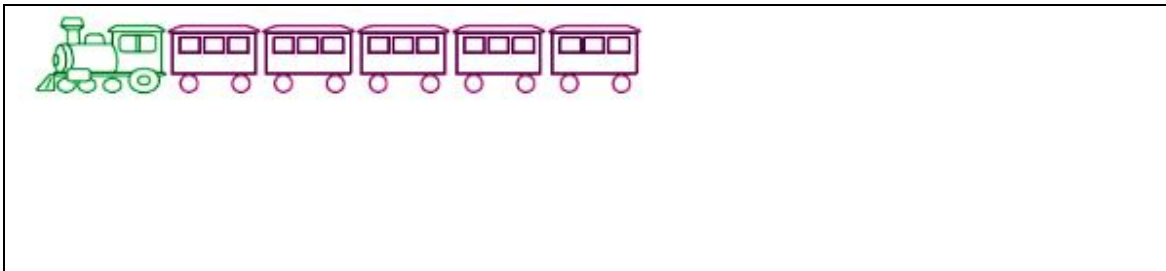
curso

fecha


**ACTIVIDADES: ADICIONES Y SUSTRACCIONES CON NÚMEROS MENORES A 20 D**

1. Resuelva los siguientes problemas, completando la frase y dibujando los elementos que faltan. Píntelos a su gusto:

a) Juan tiene un tren con 5 carritos y le regalaron 6 carritos más. ¿cuántos carritos tiene ahora?




b) Martina plantó en su jardín 11 plantas, su mamá le dio 9 más. ¿cuántas plantas tiene ahora en su jardín?




c) Carlos juega a armar figuras con unos cubos, al principio solo tiene 4 cubos y su hermano Pedro le pasó 10 más. ¿Cuántos cubos tiene ahora Carlos?



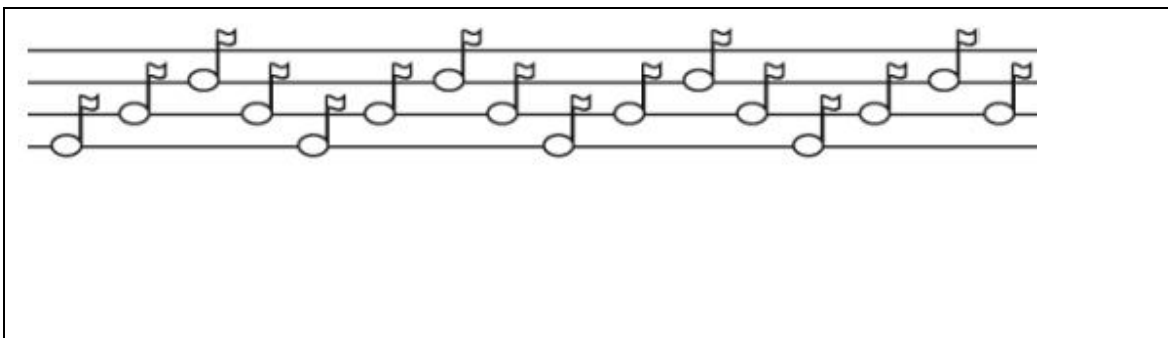
d) Tomás cosechó 8 manzanas el día lunes y 11 el día martes. ¿cuántas manzanas cosechó en total?




e) Claudia ha recogido 12 hojas para su trabajo de artes y su padre le regaló 5 más. ¿Cuántas hojas tiene en total?



f) Josefina ha creado una canción con 16 notas musicales, le faltan 6 más, ¿cuántas notas musicales tendrá la canción?



2. Francisco invitó a 10 de sus amigos a su casa y quiere darles a cada uno de ellos una fruta.



a) Les dará una manzana y una naranja a cada uno, ¿cuántas frutas necesitará?

b) Si no asisten dos de sus amigos, ¿cuántas frutas repartirá?

**Elaborado por:** Fundación AraucaníAprende

**Texto e imágenes modificadas por:** Ministerio de Educación de Chile

