












PAUTA ACTIVIDADES: ECUACIONES QUE INVOLUCREN ADICIONES Y SUSTRACCIONES


1. Si el valor de  es 5, calcule:












 + 2 =	5 + 2 = 7
20 -  =	20 - 5 = 15

 + 1 =	5 + 1 = 6
5 -  =	5 - 5 = 0

2. Encuentre el valor de  en la siguiente expresión:

 - 8 = 20	El valor de  es: 28
 + 5 = 9	El valor de  es: 4
 +  = 8	El valor de  es: 4

3. Encuentre el valor de  en cada caso:

 +  = 4	El valor de  es: 2
 + 6 = 7	El valor de  es: 1
 +  +  = 9	El valor de  es: 3
 - 10 = 2	El valor de  es: 12

4. Encuentre el valor de  en la siguiente expresión:

$$\img alt="gift box" data-bbox="149 606 255 672"/> + \img alt="gift box" data-bbox="306 606 412 672"/> + 4 = \img alt="gift box" data-bbox="521 606 627 672"/> + 10$$

El valor de  es:**6**.....