

## Actividades

1

Compara cada par de números y marca con una **X** el que es mayor:

26	
62	

124	
214	

406	
640	

285	
528	

349	
394	

2

Usando la misma cantidad de dígitos, escribe uno que sea mayor a:

351

567

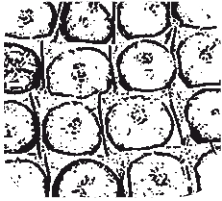
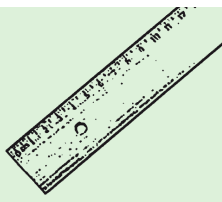

590


718


113


3


Resuelve los siguientes problemas:

	Paula compró un cajón con 25 tomates y Ricardo uno con 50.	¿Cuántos tomates más compró Ricardo que Paula? .....
	Cristina mide 143 centímetros y Pedro 168 centímetros.	¿Cuántos centímetros menos mide Cristina que Pedro? .....
	Roberto tiene una colección con 24 libros de cuentos. Él quiere tener 100 libros.	¿Cuántos libros le faltan a Roberto para completar la colección que quiere tener? .....

	<p>Carlos tiene \$250 más que Carla; ella tiene \$450</p>	<p>¿Cuánto dinero tiene Carlos?</p> <p>\$.....</p>
---	---	--

	<p>Verónica pesa 8 kilos menos que su mamá. La mamá pesa 61 kilos.</p>	<p>¿Cuánto pesa Verónica?</p> <p>.....</p>
---	--	--

	<p>A una conferencia de prensa asisten 24 hombres menos que mujeres.</p>	<p>¿Cuántos hombres participaron de la conferencia sabiendo que asistieron 86 mujeres?</p> <p>.....</p>
--	--	---

	<p>Actualmente el pasaje en un colectivo cuesta \$500. La semana pasada subió \$20.</p>	<p>¿Cuánto costaba el pasaje del colectivo antes de que subiera de precio?</p> <p>\$.....</p>
---	---	---